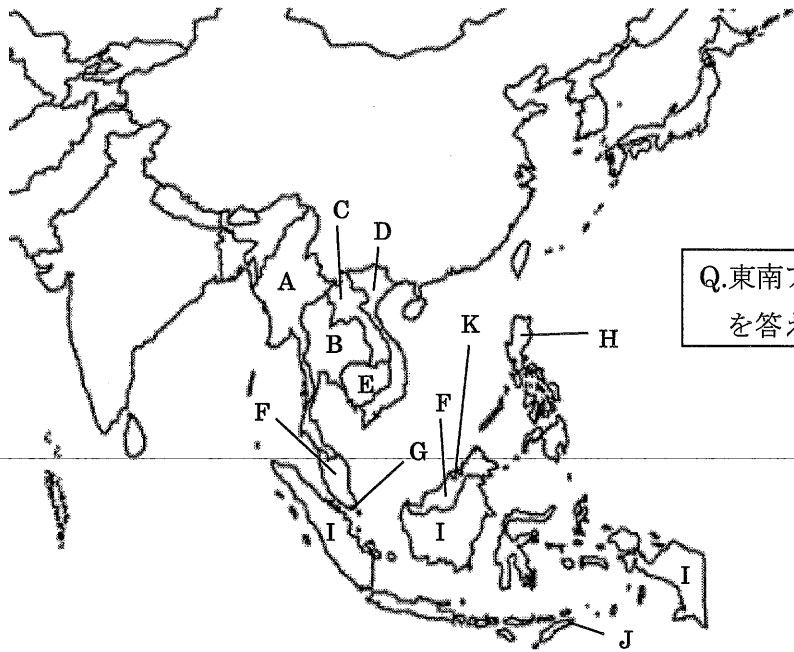


Q.東南アジアの国名
を答えなさい

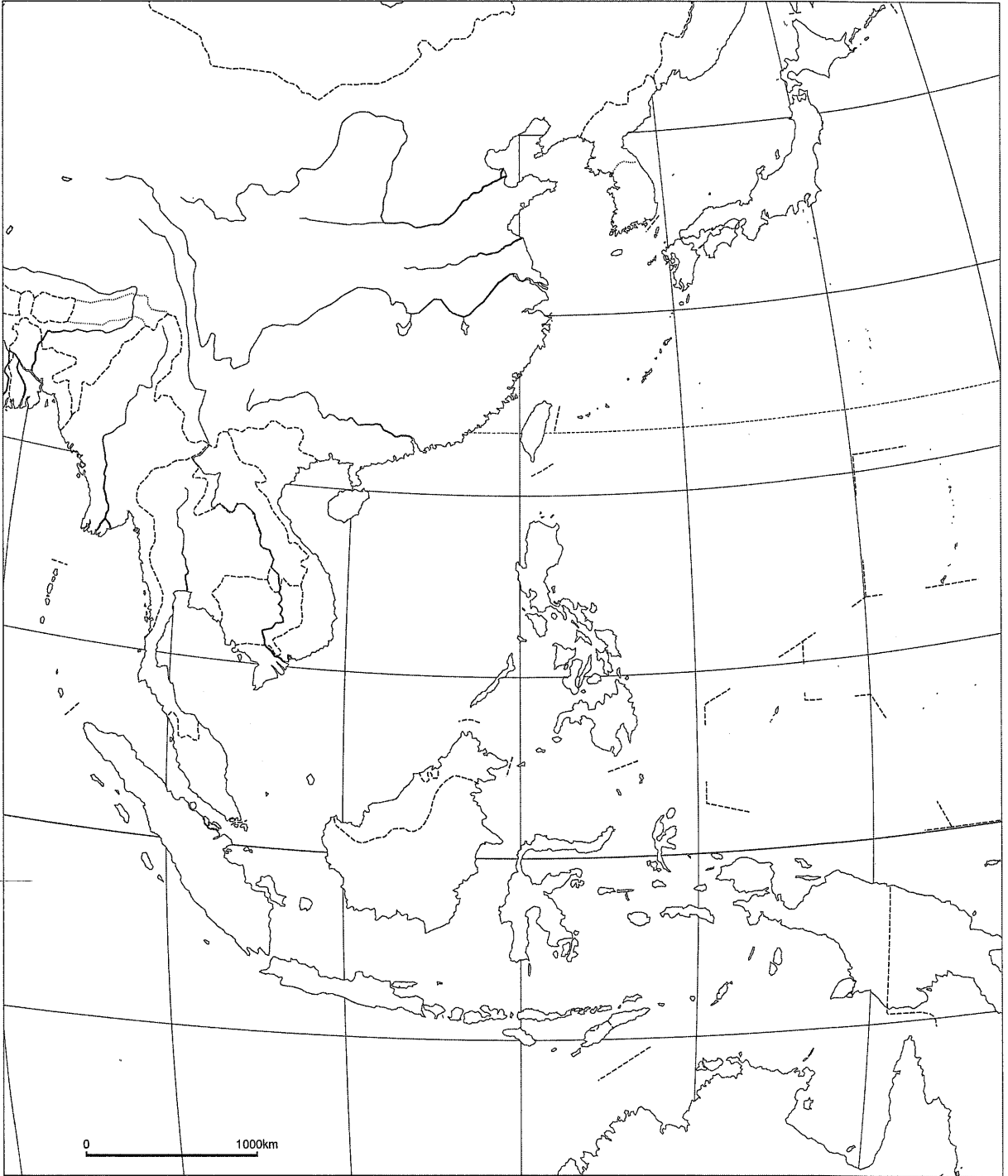
A	B	C	D
E	F	G	H
I	J	K	



Q.東南アジアの国名
を答えなさい

A	B	C	D
E	F	G	H
I	J	K	

東南アジア



2) 東南アジアの気候

・ 大部分が熱帯(A気候)

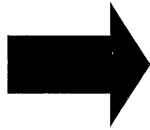
① ……赤道付近の島しょ部

② ……大陸部、明瞭な と (の影響)

3) 東南アジアの生活・文化

・ 多様な宗教

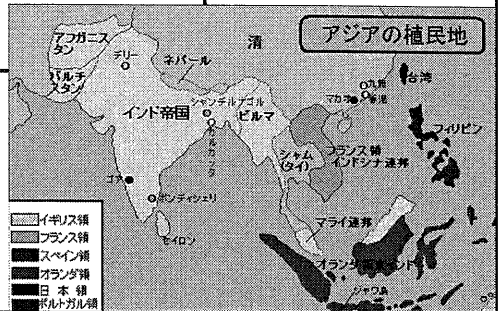
{ → インドシナ半島の国々
→ 、マレーシア
キリスト教→



東西貿易の要衝
(様々な人が出入り)

欧米の植民地支配
(以外)

* 戦後独立



・多民族

古くから暮らす土着民族(マレー系)
労働者・商人として移住の中国系、インド系

④ マレーシアの民族と政策

① マレーシアの民族

マレーシアは、先住民のマレー系と、インド系、中国系の民族で構成される多民族国家である。



で優位



華人 … 経済活動で優位

→ 華人

海外に移住した中国人

→

海外に移住したインド人

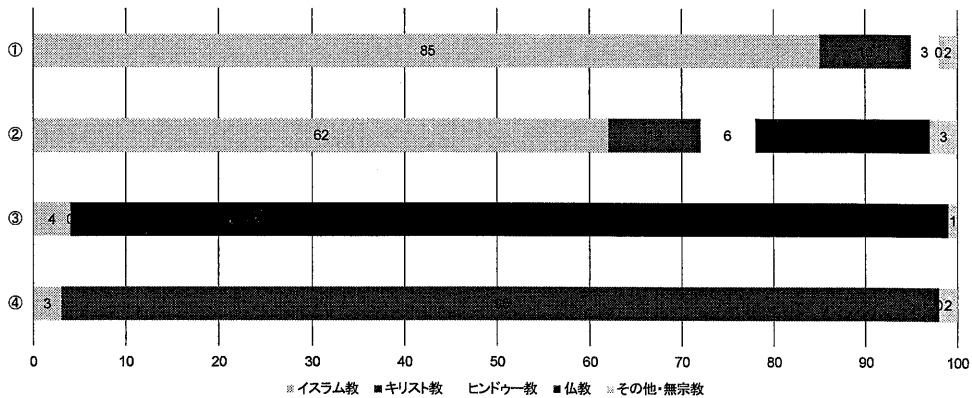
→

→ 華人とマレー系(土着民族)の対立

政府⇒

**教育・就職の面でマレー系を優遇
経済水準の底上げ**

次の図は、いくつかの国の宗教別人口割合を示したものであり、①～④は、インドネシア、タイ、フィリピン、マレーシアのいずれかである。タイに該当するものを、図中の①～④のうちから1つ選べ。



4) 東南アジアの農業

・主食・・・

⇒雨季(4月下旬)に栽培、乾季に収穫

⇒モンスーンの影響

{ 川(ベトナム・カンボジア)
川(タイ)
川(ミャンマー)

が輸出世界一

稲の種類

→ かつては、 (低収量)

1960年代から農業技術革新

()により高収量品種

⇒ 食料不足の解消

灌漑による乾季作も増加

・商品作物の栽培⇒

→ 資本の 農園

(人の移民労働力)

戦後: ⇔生態系の保全

→ 、日本資本の 農園

⇒ に輸出

→ 1990年代～ 栽培
生産量 世界第 位
⇒ 植民地の影響

5) 東南アジアの工業

戦前: 経済

1967年: (東南アジア諸国連合)

1970年代: の工業化

→ 外国の資本・技術を導入

1981年: 政策

⇒ マレーシア・首相

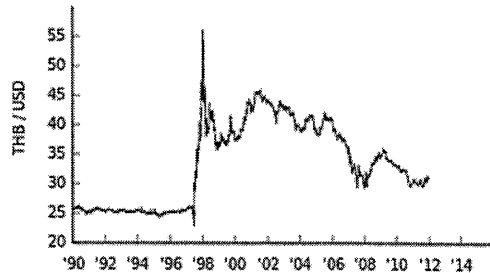
1986年: (刷新)政策 ⇒



1997年:

**の通貨の価値が暴落
アジア全体へ影響**

⇒ 乗り越え、電気・電子産業で経済成長



* の進出
⇒ 東南アジアでの・製造・組み立て

低賃金、土地安、距離近

* ASEAN
⇒ 他地域と を結び連携強化



④ マレーシアにある日本企業の工場

(クアラランパーン州近郊、2011年)
マレーシアはルックイーストという日本や韓国をモデルにした政策を掲げて、工業化を推進した。日本企業の進出も多く、近年では半導体をはじめとする電気・電子産業が盛んである。写真は日立のエアコンの組み立て工場。

⑤ 日本企業における賃金の比較

製造業の月平均賃金 - 2009年度 -

国	1000円換算
日本	1000
中国	1000
インド	1000
タイ	1000
マレーシア	1000
インドネシア	1000
フィリピン	1000
ベトナム	1000
シンガポール	1000
韓国	1000
台湾	1000
香港	1000
米国	1000
欧州	1000

